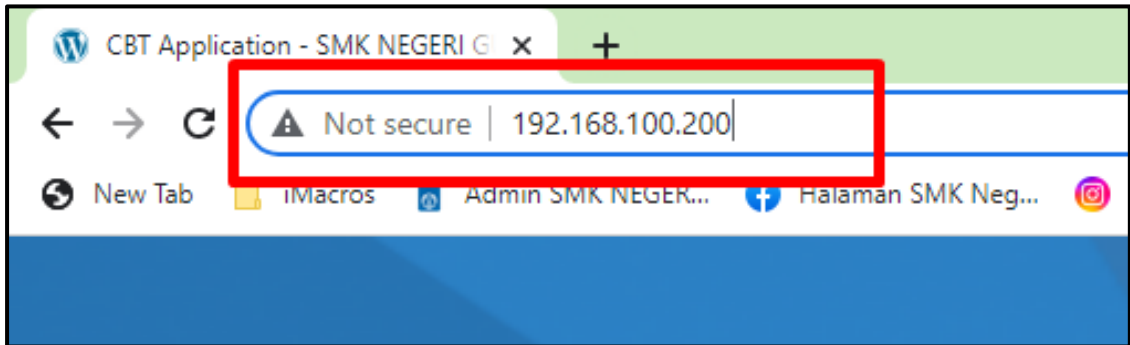
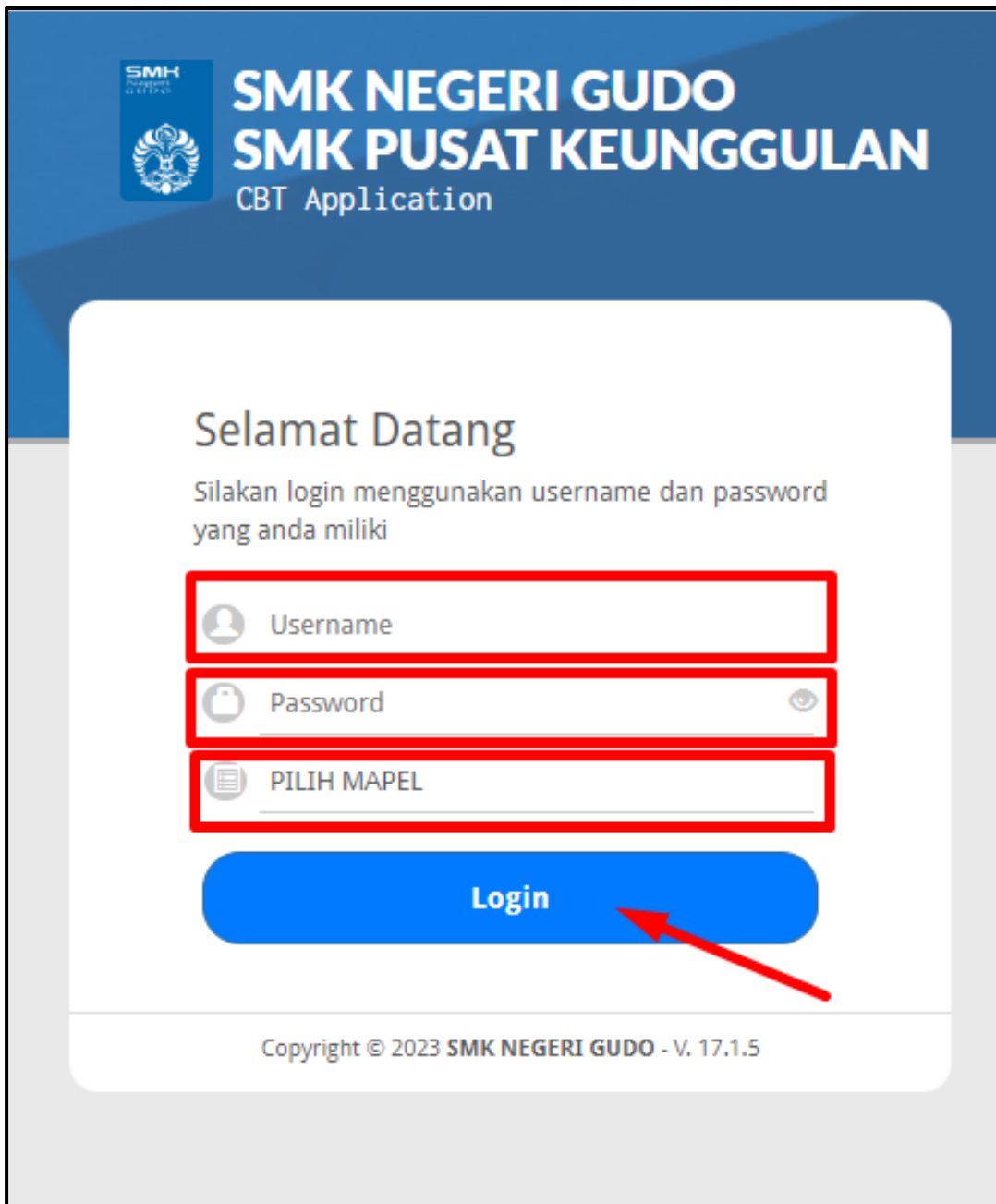


PANDUAN APLIKASI CBT AKM SMK NEGERI GUDO

1. LOGIN KE ALAMAT CBT BERIKUT DI ADDRESS BAR BROWSER ANDA
192.168.100.200

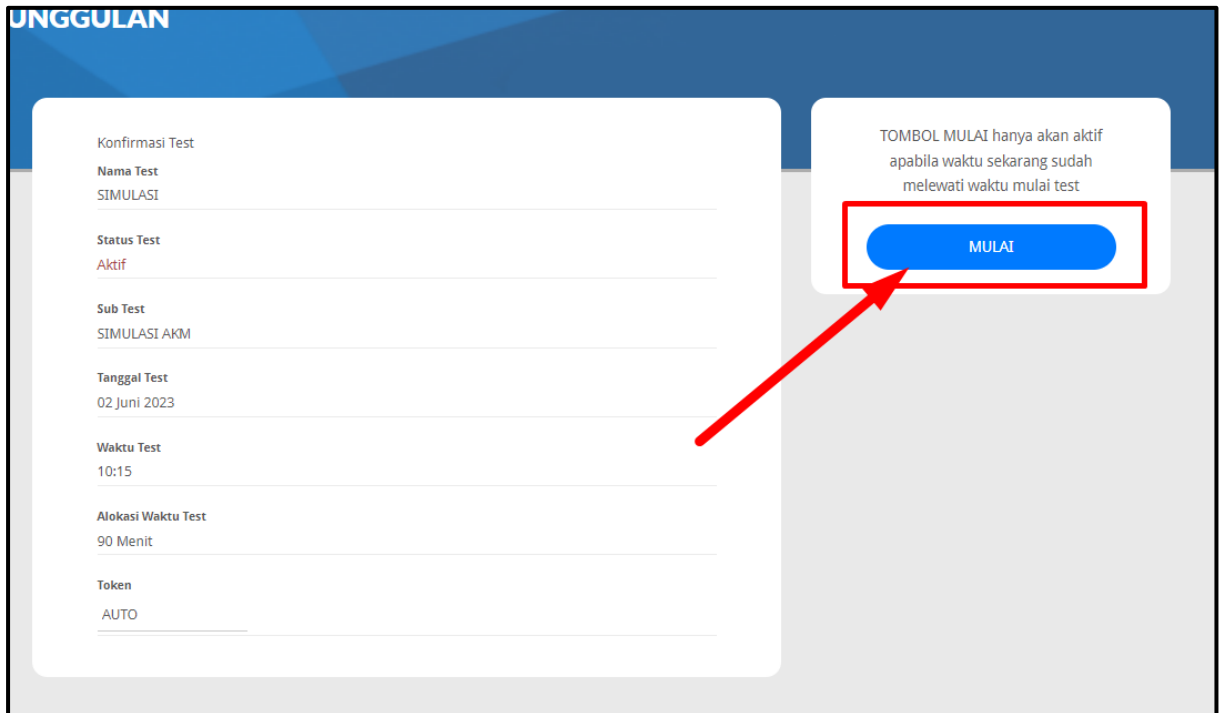


2. SETELAH MASUK HALAMAT UTAMA CBT AKM, SILAHKAN ISI
USERNAME, PASSWORD DAN PILIH MAPEL UJIAN
KEMUDIAN **KLIK TOMBOL LOGIN**



3. JIKA SUKSES LOGIN, ANDA AKAN DI ARAHKAN PADA HALAMAN KONFIRMASI TEST, PRIKSA NAMA TEST YANG AKAN DI UJIKAN.!

KLIK TOMBOL MULAI



UNGGULAN

Konfirmasi Test

Nama Test
SIMULASI

Status Test
Aktif

Sub Test
SIMULASI AKM

Tanggal Test
02 Juni 2023

Waktu Test
10:15

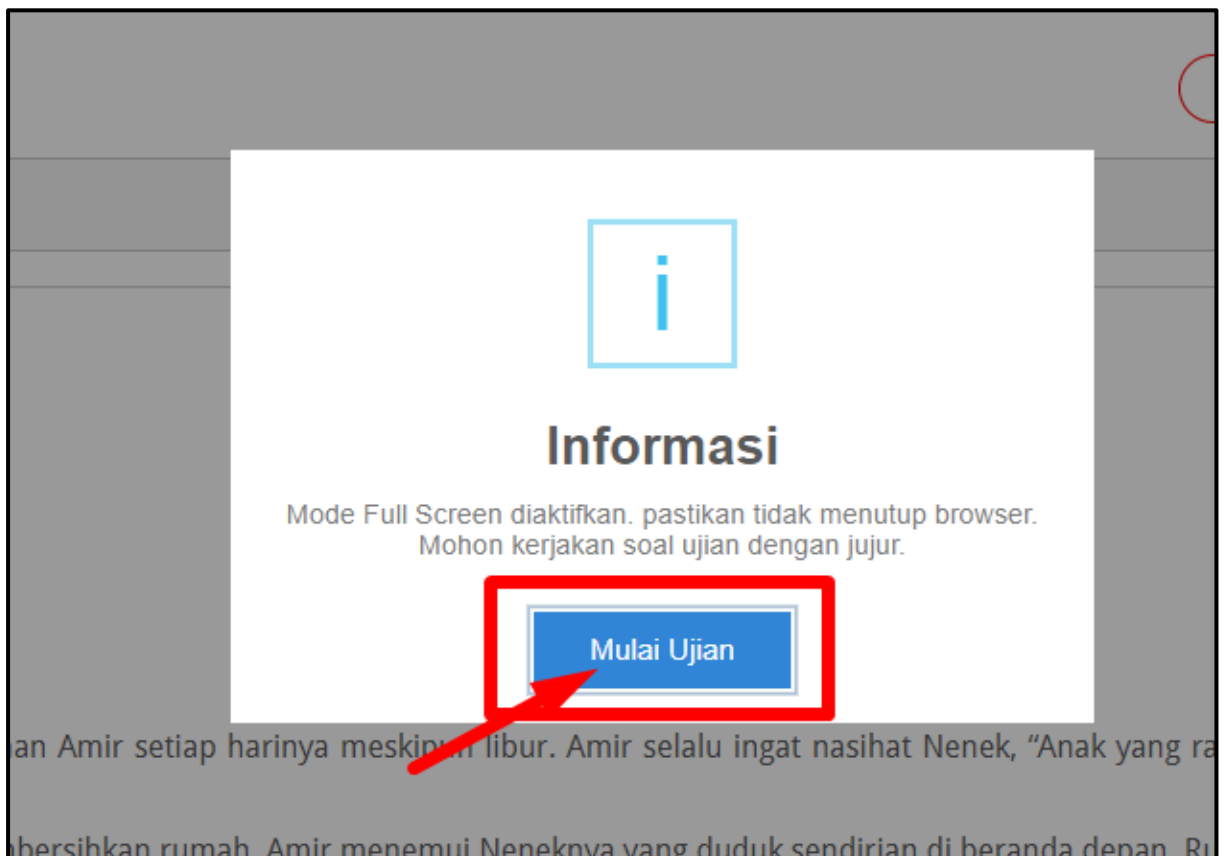
Alokasi Waktu Test
90 Menit

Token
AUTO

TOMBOL MULAI hanya akan aktif apabila waktu sekarang sudah melewati waktu mulai test

MULAI

4. KLIK **TOMBOL MULAI UJIAN**



i

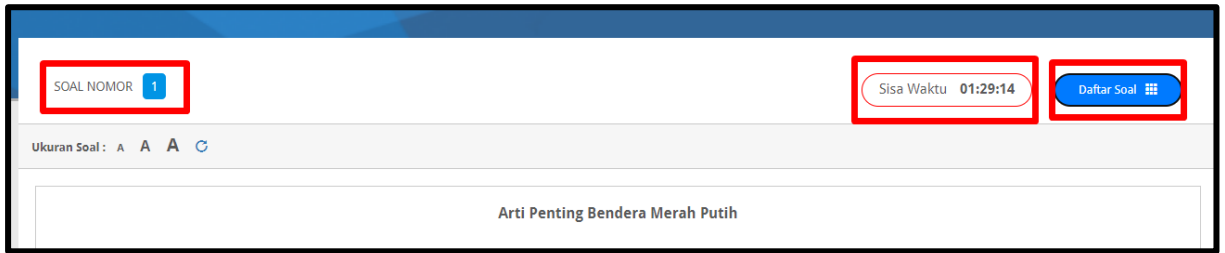
Informasi

Mode Full Screen diaktifkan. pastikan tidak menutup browser.
Mohon kerjakan soal ujian dengan jujur.

Mulai Ujian

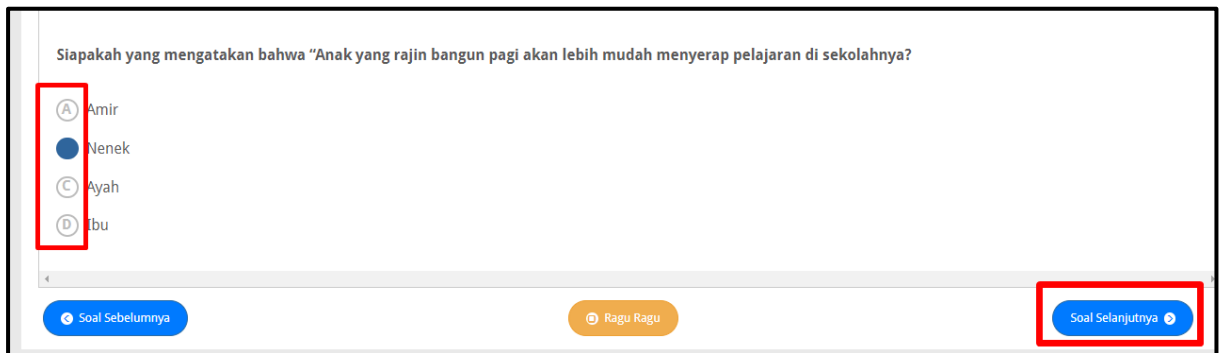
an Amir setiap harinya meskipun libur. Amir selalu ingat nasihat Nenek, "Anak yang ra
bersihkan rumah. Amir menemui Neneknya yang duduk sendirian di beranda depan. Ru

5. PADA BAGIAN ATAS SOAL AKAN DITAMPILKAN NOMOR SOAL, SISA WAKTU DAN DAFTAR SOAL



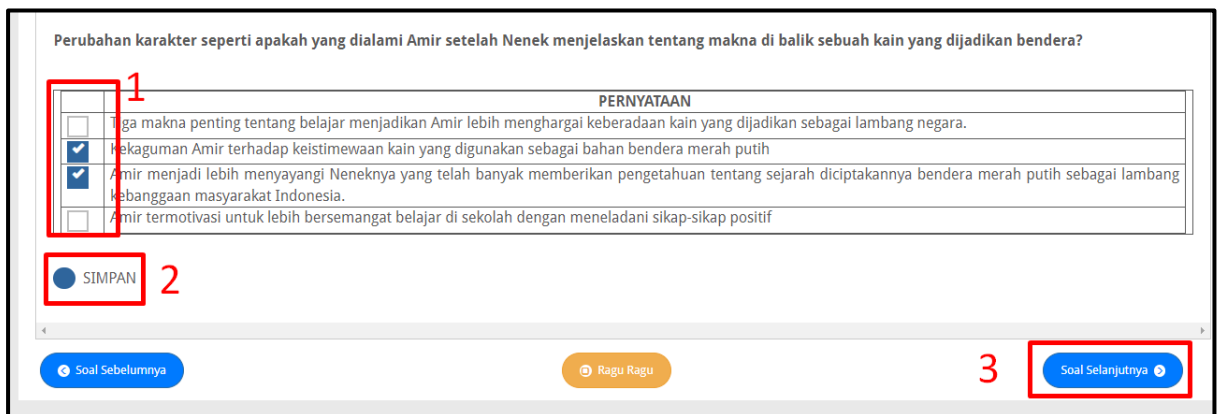
6. UNTUK SOAL PILIHAN GANDA TUNGGAL

SILAHKAN PILIH SALAH SATU JAWABAN YANG ANDA ANGGAP BENAR



7. UNTUK SOAL PILIHAN GANDA KOMPLEKS

SILAHKAN PILIH BEBERAPA JAWABAN YANG ANDA ANGGAP BENAR DAN JANGAN LUPA KLIK A. SIMPAN



8. UNTUK SOAL OPSI BENAR DAN SALAH

SILAHKAN PILIH SALAH SATU JAWABAN YANG ANDA ANGGAP BENAR/SALAH DAN JANGAN LUPA KLIK A. SIMPAN

Apakah perubahan yang terjadi setelah Butet Manurung sukses mendirikan Sokola Rimba? Berilah tanda centang (✓) pada kolom benar atau salah.

PERNYATAAN	BENAR	SALAH
Masyarakat Rimba tidak menginginkan misi pendidikan yang dibawa Butet akan mengubah Sokola Rimba ada 16 titik di wilayah Indonesia, selain yang di Jambi, yaitu Flores, Halmahera,	<input checked="" type="radio"/>	<input type="radio"/>
Misi pendidikan yang dibawa Butet mampu mengubah aturan adat masyarakat Rimba sehingga anak-anak perempuan boleh ikut bersekolah.	<input type="radio"/>	<input checked="" type="radio"/>
Anak laki-laki masyarakat Rimba diajarkan kemampuan dasar baca, tulis, dan berhitung.	<input checked="" type="radio"/>	<input type="radio"/>

SIMPAN







Soal Sebelumnya Ragu Ragu Soal Selanjutnya

9. UNTUK SOAL OPSI MENJODOHKAN

1. KLIK SALAH SATU PERNYATAAN TERLEBIH DAHULU, KEMUDIAN KLIK MANA YANG COCOK SESUAI PERNYATAANNYA

Ukuran Soal: A A A

Pasangkanlah pernyataan yang berisi fakta/opini dengan ilustrasi pendukung yang sesuai





Ketika usia anak sekolah (13-17 tahun) menjadi pengguna medsos terbanyak ketiga, peluang ini bisa digunakan guru untuk memanfaatkan medsos sebagai sarana pembelajaran yang efektif.	<input checked="" type="radio"/>	
Dia adalah Indiana Jones Pendidikan di Indonesia yang mendirikan Sokola Rimba untuk anak-anak pedalaman agar bisa mengenyam pendidikan.	<input type="radio"/>	
Sokola Rimba ini bukan seperti sekolah pada umumnya karena tidak perlu gedung, tidak ada kurikulum, yang diajarkan kemampuan dasar membaca, menulis, dan berhitung.	<input type="radio"/>	
Ternyata, di balik proses menjahit kain menjadi bendera, termuat 3 makna penting tentang belajar yang menjadikan Amir memahami arti ketekunan, kesabaran-ketabahan, dan kebermanfaatannya.	<input type="radio"/>	
	<input type="radio"/>	
	<input type="radio"/>	

Jawab Ulang

SIMPAN

**JODOHKAN JAWABAN DAN SOAL SATU PER SATU
BEGITU SETERUSNYA
DAN JANGAN LUPA KLIK A. SIMPAN**

Pasangkanlah pernyataan yang berisi fakta/opini dengan ilustrasi pendukung yang sesuai

Ketika usia anak sekolah (13-17 tahun) menjadi pengguna medsos terbanyak ketiga, peluang ini bisa digunakan guru untuk memanfaatkan medsos sebagai sarana pembelajaran yang efektif.	<input checked="" type="radio"/>	
Dia adalah Indiana Jones Pendidikan di Indonesia yang mendirikan Sokola Rimba untuk anak-anak pedalaman agar bisa mengenyam pendidikan.	<input checked="" type="radio"/>	
Sokola Rimba ini bukan seperti sekolah pada umumnya karena tidak perlu gedung, tidak ada kurikulum, yang diajarkan kemampuan dasar membaca, menulis, dan berhitung.	<input checked="" type="radio"/>	
Ternyata, di balik proses menjahit kain menjadi bendera, termuat 3 makna penting tentang belajar yang menjadikan Amir memahami arti ketekunan, kesabaran-ketabahan, dan kebermanfaatn.	<input checked="" type="radio"/>	

**10. PADA SOAL URAIAN,
SILAHKAN MINTA LEMBAR JAWABAN KERTAS PADA PENGAWAS UNTUK
MENJAWABNYA,
JANGAN LUPA JUGA TULIS BEBERAPA KATA PADA FORM YANG
DISEDIAKN DI APLIKASI**

Kelas IX-A berukuran 8 x 8 meter persegi dengan jumlah siswa 31 orang yang terdiri atas 16 siswa perempuan dan 15 siswa laki-laki. Setiap siswa dapat menempelkan hasil karya berupa poster di dinding kelas di bagian sisi kiri, kanan, dan belakang. Dinding sebelah kiri dan kanan yang dapat ditempel poster masing-masing panjangnya 6 meter. Jika tinggi poster 1 meter, lebar maksimal poster yang dapat ditempel di dinding tersebut adalah....

Jawab Pada LJK (Lembar Jawaban Kertas) yang telah disediakan!

Jawaban Sudah ada di LJK

**11. PADA SOAL URAIAN SINGKAT,
ANDA DIMINTA UNTUK LANGSUNG MENULISKAN JAWABAN SINGKAT
YANG ANDA ANGGAP BENAR
JANGAN LUPA KLIK TOMBOL A. SIMPAN**

Ruang kelas idealnya berbentuk segi empat (persegi atau persegi panjang). Berdasarkan peraturan menteri tentang standar sarana dan prasarana pendidikan, luas minimal ruang untuk siswa di kelas adalah 2 m² tiap siswa. Dengan standar tersebut, diharapkan pergerakan siswa akan luasa dan sirkulasi udara dapat berganti dengan baik sehingga suhu ruangan tetap nyaman untuk belajar. Adapun kapasitas setiap kelas standarnya adalah 20-32 siswa. Suatu kelas di SMP Mutiara Bersemi diisi siswa dengan jumlah 32 orang yang menempati meja dan kursi tunggal.

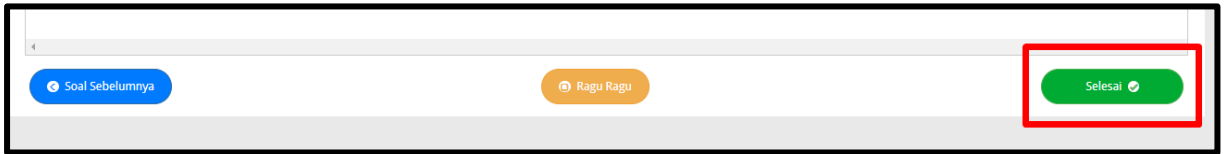
Kelas IX-A berukuran 8 x 8 meter persegi dengan jumlah siswa 31 orang yang terdiri atas 16 siswa perempuan dan 15 siswa laki-laki. Setiap siswa dapat menempelkan hasil karya berupa poster di dinding kelas di bagian sisi kiri, kanan, dan belakang. Dinding sebelah kiri dan kanan yang dapat ditempel poster masing-masing panjangnya 6 meter. Jika tinggi poster 1 meter, lebar maksimal poster yang dapat ditempel di dinding tersebut adalah...

1

2 **A SIMPAN**

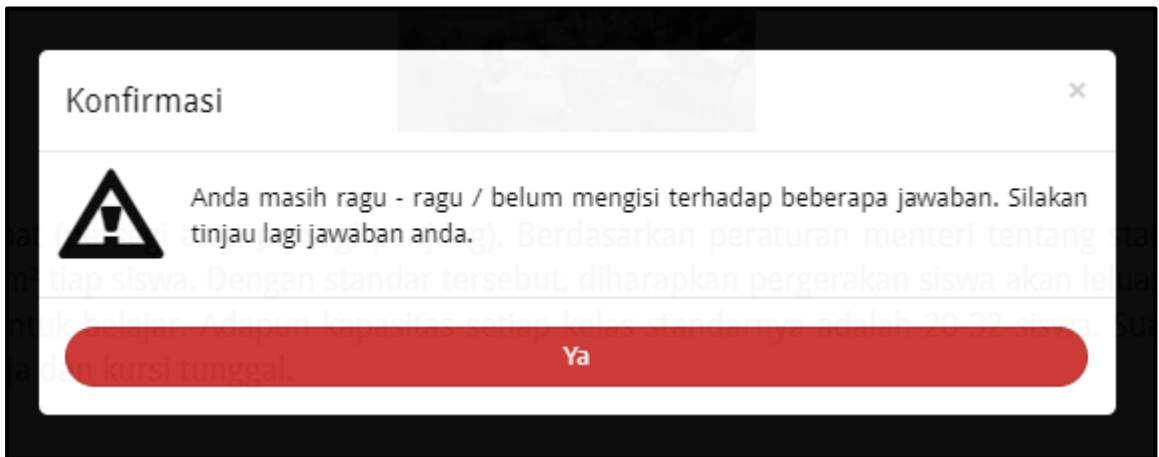
3 **Soal Selanjutnya**

12. PADA HALAMAN TERAKHIR SOAL AKAN DITAMPILKAN TOMBOL BERIKUT



JIKA SEMUA SOAL SUDAH ANDA JAWAB SILAHKAN KLIK TOMBOL SELESAI

13. JIKA SAAT KLIK TOMBOL SELESAI KELUAR NOTIFIKASI SEPERTI DIBAWAH INI,



BERARTI ADA BEBERAPA SOAL YANG BELUM ANDA JAWAB, SILAHKAN DILENGKAPI TELEBIH DAHULU

14. JIKA SEMUA SOAL SUDAH TERJAWAB MAKA AKAN MUNCUL NITIFIKASI BERIKUT



JANGAN LUPA CENTANG KEMUDIAN KLIK TOMBOL SELESAI UNTUK MENGAKHIRI UJIAN

15. KLIK TOMBOL LOGOUT



16. SELESAI